


Adı : .....

Soyadı: .....

1 . Sınıf  
Matematik

Uzamsal İlişkiler  
Altında-Üstünde

Hangisi altta? Hangisi üstte?





Adı : .....

Soyadı: .....

1 . Sınıf  
Matematik

Uzamsal İlişkiler  
Altında-Üstünde

Hangisi hangisinin altında, üstünde? Çiz.



Adı : .....

Soyadı: .....

## 1 . Sınıf Matematik

## Uzamsal İlişkiler Altında-Üstünde



Tüm etkinliklerde yönerge ile öğrencilerin cümle kurarak  
altında ve üstünde olma durumları işlenecek.  
Çocuk ağacın altındadır. Kuş ağacın üstündedir.  
Ağacın altında çocuk, üstünde kuş vardır.



Yönerge ile sırayla aşağıdaki görseller yukarıdaki tabloya  
çizdirilir.

1. Ağaç ,Türk Bayrağının üstündedir.

2-Ev, armudun altındır.

